

LEMBAR SOAL

Mata Pelajaran : EKONOMI
Kelas : XII IPS
Hari, tanggal :
Alokasi Waktu : 120 menit

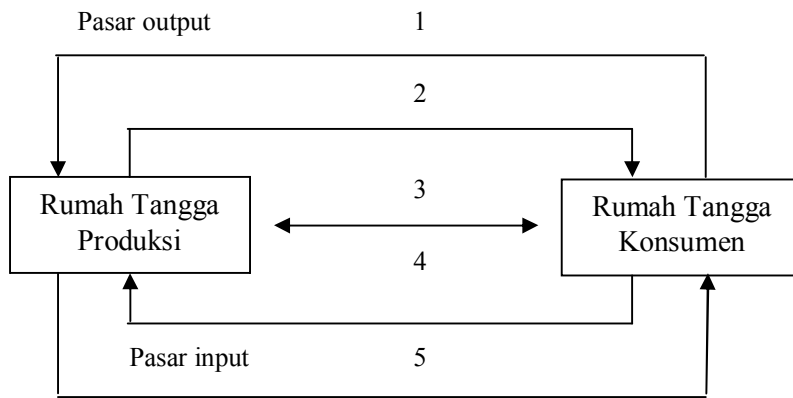
Petunjuk Umum:

1. Jumlah soal seluruhnya 40 butir, dengan 5 pilihan jawaban.
2. Setiap soal hanya memiliki 1 jawaban yang benar/paling benar.
3. Bacalah soal dengan teliti dan sungguh-sungguh sebelum menetapkan jawaban!
4. Gunakan pensil 2B yang asli untuk mengarsir jawaban yang Anda pilih!
5. Tidak diperbolehkan menggunakan kalkulator atau alat elektronik lainnya.
6. Selamat bekerja.

Petunjuk khusus : Pilihlah jawaban yang benar/paling benar, dan arsirlah huruf yang sesuai dengan pilihan Anda pada lembar jawaban komputer (LJK)!

1. Pokok masalah ekonomi dalam masyarakat adanya keterbatasan sumber daya alam,. Untuk mengatasi masalah tersebut dapat dilakukan dengan cara berikut ini , kecuali.....
 - A. meningkatkan penggunaan sumber daya alam sesuai kebutuhan
 - B. upaya melakukan penghematan sumber daya alam
 - C. mendorong masyarakat untuk melestarikan sumber daya alam
 - D. mendorong masyarakat untuk mengelola penggunaan sumber daya alam agar terjadi keseimbangan.
 - E. Upaya meningkatkan kreatifitas masyarakat untuk menciptakan alat pemuas/barang pengganti
2. Masalah-maslah ekonomi yang ada dalam masyarakat sebagai berikut :
 1. menghasilkan barang dan jasa yang dibutuhkan
 2. menentukan barang dan jasa yang akan diproduksi dan jumlahnya
 3. menyalurkan barang dari produsen kepada konsumen
 4. menentukan cara memproduksi barang
 5. siapa yang akan menggunakan barang dan jasaMasalah diatas yang termasuk masalah pokok ekonomi modern adalah
 - A. 1, 2, dan 3
 - B. 1, 2, dan 5
 - C. 2, 3, dan 5
 - D. 2, 4, dan 5
 - E. 3, 4, dan 5
3. Kegiatan ekonomi masyarakat diserahkan kepada kekuatan pasar, namun sampai batas tertentu pemerintah tetap melakukan kendali. Kegiatan ekonomi seperti ini terdapat pada system ekonomi....
 - A. pasar
 - B. campuran
 - C. komando
 - D. tradisional
 - E. demokrasi ekonomi

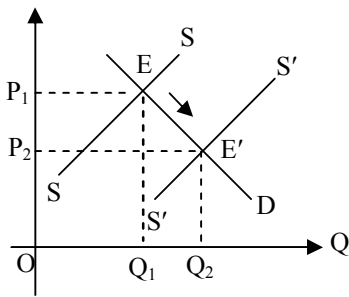
4. Bagan interaksi rumah tangga produksi dengan rumah tangga konsumsi :



Berdasarkan bagan diatas yang termasuk arus faktor produksi adalah

- A. 1
- B. 2
- C. 3
- D. 4
- E. 5

5. Perhatikan kurva dibawah ini



Pergeseran kurva penawaran SS ke S'S' diakibatkan oleh

- A. jumlah penawaran meningkat karena kenaikan harga
- B. jumlah permintaan meningkat karena harga turun
- C. penurunan harga dikarenakan oleh penurunan penawaran
- D. penurunan harga di karenakan oleh kenaikan permintaan
- E. penurunan harga dikarenakan oleh penurunan harga permintaan

6. Tabel penawaran atas barang “YY” sebagai berikut

	Harga	Jumlah
Keadaan 1	Rp. 7.000,00	6.000 satuan
Keadaan 2	Rp. 5.000,00	5.000 satuan

Berdasarkan table diatas , fungsi penawarannya adalah

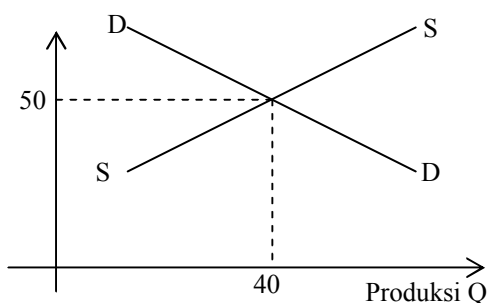
- A. $Q_s = 2P_s - 8.000$
- B. $Q_s = 2P_s - 5.000$
- C. $Q_s = 2P_s + 5.000$
- D. $Q_s = 0.5P_s + 3.500$
- E. $Q_s = 0.5P_s + 2.500$

7. Bila diketahui fungsi permintaan $Q_d = -2P_d + 20$ dan fungsi penawaran $Q_s = \frac{1}{2}P - 2$. Dan Pemerintah memberikan subsidi sebesar 2 maka titik kesetimbangan setelah subsidi adalah

- A. (2,4 ; 8,8)
- B. (0,8 ; 9,6)
- C. (3,2 ; 8,4)
- D. (8,4 ; 3,2)
- E. (9,6 ; 0,8)

8. Perhatikan grafik disamping ini !. Grafik disamping menunjukkan pembentukan harga pada pasar

....



- A. monopoli
- B. duapoli
- C. oligopoly
- D. persaingan sempurna
- E. persaingan monopolistic

9. Beberapa perilaku yang dilakukan oleh manusia :

- 1 Agus sangat berharap dapat membeli kamus bahasa Perancis Indonesia. Dengan uang sebesar Rp.100.000,00 yang dimiliki ia mencoba ke Toko buku, ternyata harga kamus tersebut Rp.95.000,00.
- 2 Hamzah memproduksi payung dengan mengeluarkan biaya produksi sebesar Rp.18.000.,00 per unit. Ternyata harga payung pada musim hujan dapat mencapai Rp.25.000,00 per unit,
- 3 Umar punya uang Rp. 65.000,00, ia ingin membeli sepatu sekolah. Ternyata harga sepatu sekolah yang termurah dengan harga Rp.65.000,00.
- 4 Yanti dapat membuat baju kebaya dengan biaya Rp. 100.000,00, karena baru memulai usahanya ia memasang harga Rp. 100.000,00
- 5 Anita mempunyai tabungan Rp. 300.000,00 ,untuk membelikan ibunya hadiah bross ia dapat membeli bross yang cantik seharga Rp. 150.000,00

Perilaku di atas yang bisa mendapatkan Marginal produsen adalah ...

- A. 1
- B. 2
- C. 3
- D. 4
- E. 5

10. Untuk mengatasi masalah kemiskinan, keterbelakangan, lapangan pekerjaan, dan pemerataan pembangunan, pemerintah melakukan berbagai kegiatan dan program, antara lain:

- (1) program wajib belajar 9 tahun
- (2) inpres desa tertinggal
- (3) bantuan langsung tunai
- (4) transmigrasi
- (5) subsidi beras (raskin)

Program pemerintah untuk pemerataan pembangunan di antaranya adalah... .

- A. (1) dan (2)
- B. (1) dan (3)
- C. (2) dan (3)
- D. (2) dan (4)
- E. (3) dan (5)

11. Gambaran keadaan ekonomi suatu negara adalah sebagai berikut: (dalam miliar):

- GDP Rp1.500,00
- Produksi perusahaan asing Rp75,00
- Produksi warga negara di luar negeri Rp30,00
- Pajak langsung Rp10,00
- Pajak tidak langsung Rp15,00
- Pajak perseroan Rp5,00
- Asuransi Rp3,00
- Laba ditahan Rp15,00
- Pembayaran transfer Rp25,00
- Penyusutan Rp30,00

Berdasarkan data di atas, Personal Income adalah... .

- A. Rp1.455,00
- B. Rp1.425,00
- C. Rp1.412,00
- D. Rp1.410,00
- E. Rp1.402,00

12. Perhatikan tabel di bawah ini!

Bulan	Indeks harga konsumen
Oktober 2010	104,50
November 2010	110,11
Desember 2010	112,02

Laju pertumbuhan inflasi bulan Desember 2010 terhadap bulan Nopember 2010 sebesar... .

- A. 7,19%
- B. 5,36%
- C. 1,73%
- D. 1,07%
- E. 1,01%

13. Konsumsi keluarga Syamsudin digambarkan dalam fungsi $S = -150.000,00 + 0,08Y$ pada saat pendapatannya sebesar Rp8.000.000,00. Apabila pendapatan keluarga tersebut berubah menjadi Rp10.000.000,00, besar konsumsi keluarga Syamsudin adalah... .

- A. Rp650.000,00
- B. Rp1.750.000,00
- C. Rp9.050.000,00
- D. Rp9.150.000,00
- E. Rp9.350.000,00

14. Pak Bambang mempunyai sebuah perusahaan percetakan yang besar. Pada saat tetangganya Bu Farida terkena musibah kebakaran, beliau membantu Bu Farida untuk meringankan beban penderitaannya dengan memberika dana penunjang kehidupannya.

Motif yang dilakukan oleh Pak Bambang dalam memberikan uangnya menurut J.M. Keynes termasuk... .

- A. transaksi
- B. berjaga-jaga
- C. mencari keuntungan
- D. spekulasi
- E. sosial

15. Siti Aisah menyisihkan sebagian pendapatannya dari berdagang untuk ditabung di bank. Siti Ainun mendepositokan sebagian harta warisan yang diterimanya agar jumlahnya bertambah.

Berdasarkan pernyataan di atas, peranan bank dalam perekonomian adalah... .

- A. meningkatkan daya guna dan peredaran barang
- B. menjadi salah satu alat stabilitas ekonomi
- C. meningkatkan kegairahan berusaha
- D. meningkatkan pemerataan pendapatan
- E. meningkatkan peredaran dan lalu-lintas uang

16. Perhatikan pernyataan di bawah ini!

- (1) Untuk memacu pertumbuhan ekonomi, pada tahun 2011 pemerintah akan menurunkan tingkat suku bunga bank.
- (2) Pada tahun 2010, pemerintah melelang Obligasi Ritel Indonesia (ORI) dan Surat Utang Negara (SUN).
- (3) Melalui bank sentral, pemerintah menetapkan cadangan wajib minimum bagi setiap bank.
- (4) Untuk melindungi para buruh dan keluarganya, pemerintah menetapkan upah minimum sesuai standar hidup layak.
- (5) Dalam rangka memacu pembangunan sarana prasarana sampai ke pelosok tanah air, pemerintah menetapkan Harga Eceran Tertinggi untuk semen.

Dari pernyataan di atas, yang termasuk kebijakan moneter adalah... .

- A. (1), (2), dan (3)
- B. (1), (3), dan (4)
- C. (2), (3), dan (4)
- D. (2), (3), dan (5)
- E. (3), (4), dan (5)

17. Dalam ilmu ekonomi dikenal berbagai jenis pengangguran yang disertai dengan penyebab dan cara mengatasinya. Di bawah ini yang merupakan cara mengatasi pengangguran struktural adalah... .

- A. Menggalakkan pengembangan berbagai industri
- B. Mencari informasi lowongan kerja sesuai keahlian
- C. Menambah keterampilan sesuai tuntutan pekerjaan
- D. Menambah keterampilan atau keahlian lain
- E. Meningkatkan mobilitas modal dan tenaga kerja

18. Di bawah ini adalah keberhasilan dan kegagalan pembangunan ekonomi di Indonesia:

- (1) Menurunnya tingkat kelahiran yang merupakan keberhasilan program keluarga berencana yang dicanangkan sejak tahun 1970-an.
- (2) Pemerataan pendapatan nasional masih sangat mencolok antara masyarakat bawah dengan masyarakat menengah ke atas.
- (3) Meningkatnya masyarakat melek huruf akibat suksesnya program wajib belajar 9 tahun pada akhir-akhir ini.
- (4) Dalam survei 34 mata uang Asia oleh *Bloomberg* ada lima mata uang Asia yang akan terus menguat hingga tahun depan, di antaranya rupiah.
- (5) Laju inflasi yang tercantum dalam APBN 2008 sebesar 6,50; dalam RAPBNP 2009 tercantum 5,00 dan realisasi semester pertama pada tahun 2009 sebesar 3,70.

Gambaran di atas yang merupakan keberhasilan pembangunan ekonomi di Indonesia adalah... .

- A. (1), (2), dan (3)
- B. (1), (3), dan (4)
- C. (2), (3), dan (4)
- D. (2), (3), dan (5)
- E. (3), (4), dan (5)

19. Di dalam APBN tertulis sebagai berikut:

- Pendapatan Negara dan Hibah Rp523.372,0 miliar
- Penerimaan Dalam Negeri Rp132.506,5 miliar
- Penerimaan Perpajakan Rp261.331,2 miliar
- Penerimaan Bukan Pajak Rp150.229,3 miliar
- Hibah Rp3.316,5 miliar
- Belanja Negara Rp437.676,8 miliar
- Belanja Pemerintah Pusat Rp272.589,3 miliar
- Belanja Daerah Rp102.609,5 miliar

Berdasarkan data di atas, maka APBN tersebut... .

- A. Mengalami defisit sebesar Rp85.695,2 miliar
- B. Mengalami defisit sebesar Rp254.563,4 miliar
- C. Mengalami surplus sebesar Rp85.695,2 miliar
- D. Mengalami surplus sebesar Rp251.246,9 miliar
- E. Mengalami surplus sebesar Rp254.263,4 miliar

20. Beberapa kebijakan pemerintah:

- (1) Untuk memperbaiki keadaan ekonomi negara, pemerintah mengadakan deregulasi dan debirokratisasi di berbagai bidang.
- (2) Pemerintah berencana membatasi penggunaan bahan bakar bersubsidi jenis premium mulai awal tahun 2011 untuk menghemat anggaran negara.
- (3) Sejak beberapa tahun yang lalu, pemerintah menetapkan kebijakan Upah Minimum Provinsi (UMP) dan Upah Minimum Kota/Kabupaten (UMK) sebagai pengganti Upah Minimum Regional (UMR).

- (4) Untuk menekan defisit anggaran, pemerintah mengambil kebijakan dengan cara meminjam baik dari luar negeri maupun dalam negeri.
- (5) Ketika harga beras dan minyak goreng melonjak, pemerintah melalui PERUM BULOG melakukan Operasi Pasar.
- (6) Dalam rangka meningkatkan pendapatan daerah, pemerintah daerah DKI Jakarta menambah objek pajak yang menjadi sasaran wajib pajak.

Dari pernyataan di atas, yang termasuk kebijakan fiskal adalah... .

- A. (1), (2), dan (3)
- B. (2), (3), dan (5)
- C. (2), (4), dan (6)
- D. (3), (4), dan (5)
- E. (3), (5), dan (6)

21. Pada tanggal 1 Januari 2009, pemerintah memberlakukan UU No. 36 Tahun 2008 dengan menetapkan ketentuan tarif tunggal untuk *Wajib Pajak Badan*, yaitu 28% pada tahun 2009 dan 25% pada tahun 2010. Untuk *Wajib Pajak Badan* Masuk Bursa diberikan tarif 5% lebih rendah dari tarif yang berlaku. Sementara itu, PT YOU LOE (belum go public) pada tahun 2009 memperoleh laba bersih sebesar Rp256.000.000,00. Dengan demikian pajak penghasilan terutang dari PT YOU LOE adalah... .

- A. Rp12.800.000,00
- B. Rp25.600.000,00
- C. Rp59.300.000,00
- D. Rp64.000.000,00
- E. Rp71.680.000,00

22. Berikut ini manfaat pasar modal:

- (1) dapat meningkatkan pendapatan
- (2) tempat menanamkan modal
- (3) sarana memperbesar modal usaha
- (4) meningkatkan kapasitas produksi
- (5) meningkatkan pendapatan negara
- (6) menyediakan sarana perdagangan surat berharga

Dari pernyataan di atas yang merupakan manfaat pasar modal bila dilihat dari investor adalah....

- A. (1) dan (2)
- B. (1) dan (3)
- C. (2) dan (4)
- D. (3) dan (5)
- E. (4) dan (6)

23. Indonesia melakukan kerja sama dalam perdagangan internasional dengan Korea Selatan. Indonesia mengekspor gas alam dan mengimpor barang-barang elektronik dengan harga yang lebih murah bila dibandingkan dengan memproduksi sendiri.

Faktor pendorong yang melandasi adanya perdagangan antara Indonesia dengan Korea Selatan berdasarkan contoh di atas adalah... .

- A. Perbedaan teknologi
- B. Kerja sama dalam kawasan
- C. Perbedaan sumber daya alam
- D. Perbedaan selera
- E. Penghematan biaya produksi

24. Perhatikan transaksi keuangan berikut ini :

Tanggal 5 Januari 2011 dibeli perlengkapan toko seharga Rp2.500.000,00 baru dibayar Rp1.000.000,00 sisanya akan dibayar kemudian.

Tanggal 7 Januari 2011 diterima pembayaran dari seorang pelanggan atas kendaraannya yang baru selesai diperbaiki sebesar Rp4.000.000,00 dari yang seharusnya sebesar Rp5.500.000,00 sisanya akan diterima kemudian.

Tanggal 9 Januari 2011 dibayar gaji 2 orang karyawan masing-masing sebesar Rp500.000,00

Transaksi di atas, pencatatan yang benar ke dalam persamaan akuntansi adalah... .

A.

Tgl	Harta			Utang	Modal	Keterangan
	Kas	Piutang	Perlengkapan	Utang usaha		
5 Jan	(1.500.000)	-	2.500.000	1.000.000	-	
7 Jan	4.000.000	1.500.000	-	-	5.500.000	Pendpt jasa
9 Jan	(1.000.000)	-	-	-	1.000.000	Gaji Kary.

B.

Tgl	Harta			Utang	Modal	Keterangan
	Kas	Piutang	Perlengkapan	Utang usaha		
5 Jan	(1.000.000)	-	2.500.000	1.500.000	-	
7 Jan	5.500.000	1.500.000	-	-	4.000.000	Pendpt jasa
9 Jan	(1.000.000)	-	-	-	1.000.000	Gaji Kary.

C.

Tgl	Harta			Utang	Modal	Keterangan
	Kas	Piutang	Perlengkapan	Utang usaha		
5 Jan	(1.000.000)	-	2.500.000	1.500.000	-	
7 Jan	4.000.000	1.500.000	-	-	5.500.000	Pendpt jasa
9 Jan	(500.000)	-	-	-	500.000	Gaji Kary.

D.

Tgl	Harta			Utang	Modal	Keterangan
	Kas	Piutang	Perlengkapan	Utang usaha		
5 Jan	(2.500.000)	-	1.000.000	1.500.000	-	
7 Jan	5.500.000	1.500.000	-	-	4.000.000	Pendpt jasa
9 Jan	(500.000)	-	-	-	500.000	Gaji Kary.

E.

Tgl	Harta			Utang	Modal	Keterangan
	Kas	Piutang	Perlengkapan	Utang usaha		
5 Jan	(1.000.000)	-	2.500.000	1.500.000	-	
7 Jan	4.000.000	1.500.000	-	-	5.500.000	Pendpt jasa
9 Jan	(1.000.000)	-	-	-	(1.000.000)	Gaji Kary.

25. Perhatikan bukti transaksi di bawah ini!

Toko Alat Tulis Kantor			
RAMONA		Jakarta, 20 Januari 2011	
Jl. Tornado No. 100 Jakarta 10110		Kepada Bp. Robby Jakarta	
Nota Kontan No. 012/NK/P/2011			
Banyaknya	Nama Barang	Harga Satuan	Jumlah
2 lusin	CDRW SYNO	Rp 30.000,00	Rp 60.000,00
5 rim	HVS 70 gr Cap Dunia Bola	Rp 35.000,00	<u>Rp 175.000,00</u>
10 rim	Kertas Duplikator Cap Pipit	Rp 25.000,00	<u>Rp 250.000,00</u>
	Jumlah		Rp 485.000,00
Diterima oleh,		Hormat kami,	
Dayat		Endang S	

Jurnal yang tepat dari bukti transaksi di atas bila dicatat oleh Bp. Robby adalah... .

- A. Perlengkapan Kantor Rp485.000,00
 Kas Rp485.000,00
- B. Perlengkapan Kantor Rp485.000,00
 Utang Usaha Rp485.000,00
- C. Piutang Usaha Rp485.000,00
 Perlengkapan Kantor Rp485.000,00
- D. CDRW Rp60.000,00
 Kertas HVS Rp175.000,00

Kertas Duplikator	Rp250.000,00
Kas	Rp485.000,00
E. CDRW	Rp60.000,00
Kertas HVS	Rp175.000,00
Kertas Duplikator	Rp250.000,00
Utang Usaha	Rp485.000,00

26. Sebagian jurnal umum yang dibuat oleh Bengkel Rusak pada bulan Desember 2010:

Jurnal Umum

Halaman 12

Tanggal	Akun / keterangan	Ref	D	K
2010	3 Kas		Rp 800.000,00	-
Desember	Pendapatan service		-	Rp 800.000,00
	7 Beban listrik		Rp 300.000,00	-
	Kas		-	Rp 300.000,00
	12 Kas		Rp1.000.000,00	-
	Utang Usaha		-	Rp1.000.000,00

Data saldo per 30 November 2010 diketahui sebagai berikut:

- ⊕ Saldo kas Rp6.700.000,00
- ⊕ Saldo utang usaha Rp3.400.000,00

Berdasarkan data di atas maka posting ke buku besar yang benar adalah....

A. Kas

Nomor 101

Tanggal	Keterangan	Ref	Debit	Kredit	Saldo	
					Debit	Kredit
1-12-10	Saldo		-	-	6.700.000	-
3-12-10	-		800.000	-	5.900.000	-
7-12-10	-		-	300.000	5.600.000	-
12-12-10	-		1.000.000	-	7.600.000	-

B. Kas

Nomor 101

Tanggal	Keterangan	Ref	Debit	Kredit	Saldo	
					Debit	Kredit
1-12-10	Saldo		-	-	6.700.000	-
3-12-10	-		800.000	-	7.500.000	-
7-12-10	-		-	300.000	7.200.000	-
12-12-10	-		1.000.000	-	6.200.000	-

C. Utang Usaha

Nomor 201

Tanggal	Keterangan	Ref	Debit	Kredit	Saldo	
					Debit	Kredit
1-12-10	Saldo		-	-	3.400.000	-
12-12-10	-		-	1.000.000	2.400.000	-

D. Utang Usaha

Nomor 201

Tanggal	Keterangan	Ref	Debit	Kredit	Saldo	
					Debit	Kredit
1-12-10	Saldo		-	-	-	3.400.000
12-12-10	-		-	1.000.000	-	4.400.000

E. Pendapatan service

No : 401

Tanggal	Keterangan	Ref	Debit	Kredit	Saldo	
					Debit	Kredit
3-12-10	-		800.000	-	800.000	-

27. Sebagian data neraca sisa jasa angkutan "CAHAYA KILAT" per 31 Desember 2010:

- Perlengkapan Rp2.000.000,00
- Asuransi dibayar dimuka Rp2.400.000,00
- Beban Iklan Rp10.000.000,00
- Beban sewa Rp3.600.000,00

Data penyesuaian pada tanggal 31 Desember 2010:

1. Perlengkapan tersisa di gudang senilai Rp500.000,00

2. Premi asuransi dibayar 1 Juli 2010 untuk 2 tahun
3. Tanggal 1 Agustus 2010 dibayar iklan di Harian Warta Indonesia untuk 10 kali penerbitan, baru diterbitkan 7 kali
4. Sewa Kantor dibayar 2 September 2010 untuk 1 tahun
5. Gaji bulan Desember 2010 untuk 2 orang karyawan masing-masing Rp1.000.000,00 belum dibayar

Jurnal penyesuaian yang tepat adalah:

A. Iklan dibayar dimuka	Rp7.000.000,00
Beban Iklan	Rp7.000.000,00
B. Sewa dibayar dimuka	Rp2.400.000,00
Beban sewa	Rp2.400.000,00
C. Utang gaji	Rp2.000.000,00
Beban gaji	Rp2.000.000,00
D. Beban Asuransi	Rp1.800.000,00
Asuransi dibayar dimuka	Rp1.800.000,00
E. Beban Perlengkapan	Rp500.000,00
Perlengkapan	Rp500.000,00

28. Sebagian data dari Salon MANIS CANTIK pada Kertas Kerja tahun 2010, sebagai berikut:

(Dalam ribuan rupiah)

No	Ket	Neraca Saldo		AJP		NSD		L/R		Neraca	
		D	K	D	K	D	K	D	K	D	K
1	Kas	3.000	-	2.000	-	5.000	-	5.000	-	5.000	-
2	Perlengkapan	2.000	-	-	1.000	1.000	-	-	-	1.000	-
3	Modal	-	5.000	-	-	5.000	-	-	-	-	5.000
4	Pend. usaha	-	-	-	7.500	-	7.500	-	7.500	-	-
5	Beban gaji	-	-	500	-	500	-	-	-	500	-

Penyelesaian akun yang benar pada kertas kerja di atas adalah...

- A. 1 dan 2
 - B. 1 dan 4
 - C. 2 dan 4
 - D. 3 dan 5
 - E. 4 dan 5
29. Bengkel Amir memiliki data keuangan per 31 Desember 2010 sebagai berikut:

- Modal akhir	Rp12.000.000,00
- Pendapatan jasa	Rp6.000.000,00
- Pengambilan pribadi	Rp500.000,00
- Beban sewa	Rp2.000.000,00
- Beban listrik dan telepon	Rp500.000,00
- Pendapatan diterima di muka	Rp200.000,00

Berdasarkan data di atas maka besarnya modal awal Bengkel Amir adalah....

- A. Rp6.000.000,00
 - B. Rp6.500.000,00
 - C. Rp8.800.000,00
 - D. Rp9.000.000,00
 - E. Rp15.000.000,00
30. Beberapa transaksi di PD KENCANA UNGU pada bulan Nopember 2010 sebagai berikut:
- (1) Tanggal 5 Nopember 2010 diterima dari Fa Flamboyan untuk pelunasan utangnya sebesar Rp. 3.500.000,00 dengan potongan 2 %.
 - (2) Tanggal 10 Nopember 2010 dijual tunai barang dagangan kepada Toko ANDA seharga Rp 500.000,00.
 - (3) Tanggal 15 Nopember 2010 dijual barang dagang kepada Toko BERKAH seharga Rp 1.500.000,00 dengan syarat 2/10, n/30.
 - (4) Tanggal 20 Nopember 2010 dibeli barang dagang tunai kepada Toko AYU seharga Rp 750.000,00

Transaksi di atas yang dicatat dalam jurnal penerimaan kas

- A. (1) dan (2)

- B. (1) dan (3)
- C. (2) dan (3)
- D. (2) dan (4)
- E. (3) dan (4)

31. Berikut data Jurnal Pembelian dan Jurnal Umum UD. SEDAYUDAYU:

UD. SEDAYUDAYU
Jurnal Pembelian
Per 31 Oktober 2010

Halaman 10

Tanggal	No. Faktur	Keterangan	Syarat Pembayaran	Debet	Kredit	
				Pembelian	Utang Dagang	
2010 Okt	2	241	PT SEKAR	2/10, n/30	3.000.000,00	3.000.000,00
	9	313	Toko MELATI	2/10, n/30	1.000.000,00	1.000.000,00
	10	417	Toko CEMPAKA	2/10, n/30	500.000,00	500.000,00
	22	255	UD KENANGA	2/10, n/30	5.000.000,00	5.000.000,00
					9.500.000,00	9.500.000,00
				(511)	(201)	

UD. SEDAYUDAYU
Jurnal Umum
Per 31 Oktober 2010

Halaman 15

Tanggal	Keterangan	Ref	Debet	Kredit
2010 Okt	Utang Dagang (PT MERAPI) Retur Pembelian dan PH	201	400.000,00	-
		505	-	400.000,00
			400.000,00	400.000,00

Berdasarkan kedua jurnal di atas, buku besar pembantu utang yang benar adalah... .

A. Nama Kreditur: PT SEKAR

Tanggal	Keterangan	Ref	Debet	Kredit	Saldo		
					Debet	Kredit	
2010 Okt	2	Pembelian	JB.10	-	3.000.000,00	-	3.000.000,00
	22	Pembelian	JB.10	-	5.000.000,00	-	8.000.000,00
	24	Retur Pembelian	JU.15	400.000,00	-	-	7.600.000,00

B. Nama Kreditur: PT SEKAR

Tanggal	Keterangan	Ref	Debet	Kredit	Saldo		
					Debet	Kredit	
2010 Okt	2	Pembelian	JB.10	-	3.000.000,00	-	3.000.000,00
	22	Pembelian	JB.10	-	5.000.000,00	-	8.000.000,00
	24	Retur Pembelian	JU.15	-	400.000,00	-	8.400.000,00

C. Nama Kreditur: PT SEKAR

Tanggal	Keterangan	Ref	Debet	Kredit	Saldo		
					Debet	Kredit	
2010 Okt	2	Pembelian	JB.10	3.000.000,00	-	3.000.000,00	-
	22	Pembelian	JB.10	5.000.000,00	-	8.000.000,00	-
	24	Retur Pembelian	JU.15	-	400.000,00	7.600.000,00	-

D. Nama Kreditur: Toko MELATI

Tanggal	Keterangan	Ref	Debet	Kredit	Saldo		
					Debet	Kredit	
2010	9	Pembelian	JB.10	-	1.000.000,00	-	1.000.000,00
Okt	22	Pembelian	JB.10	-	5.000.000,00	-	6.000.000,00
	24	Retur Pembelian	JU.15	400.000,00	-	-	5.600.000,00

E. Nama Kreditur: Toko CEMPAKA

Tanggal	Keterangan	Ref	Debet	Kredit	Saldo		
					Debet	Kredit	
2010	2	Pembelian	JB.10	-	500.000,00	-	500.000,00
Okt	22	Pembelian	JB.10	-	5.000.000,00	-	5.500.000,00
	24	Retur Pembelian	JU.15	400.000,00	-	-	5.100.000,00

32. Perkiraan-perkiraan sebagian milik PT RAMA SHINTA sebagai berikut:

Persediaan barang dagang awal	Rp 1.000.000,00
Persediaan barang dagang akhir	Rp 1.200.000,00
Pembelian	Rp 3.500.000,00
Beban angkut pembelian	Rp 700.000,00
Retur pembelian	Rp 300.000,00
Potongan pembelian	Rp 40.000,00
Beban usaha	Rp 950.000,00

Dari data di atas, nilai harga pokok penjualan adalah... .

- A. Rp3.740.000,00
- B. Rp3.660.000,00
- C. Rp2.960.000,00
- D. Rp2.890.000,00
- E. Rp2.260.000,00

33. Perhatikan sebagian neraca sisa berikut ini!

(Dalam Ribuan Rupiah)

No.	Nama Akun	Neraca Sisa	
		Debet	Kredit
117	Persediaan barang dagangan	18.000,00	
411	Penjualan		80.000,00
511	Pembelian	62.000,00	
512	Retur pembelian		1.500,00
513	Potongan pembelian		700,00
514	Biaya angkut pembelian	1.000,00	

Keterangan akhir periode menyebutkan bahwa persediaan barang dagang Rp19.000,00.

Berdasarkan data di atas, jurnal penyesuaian untuk persediaan barang dagang akhir dengan metode Harga Pokok Penjualan adalah...

- A. Persediaan Barang Dagangan Rp18.000,00
 Harga Pokok Penjualan Rp18.000,00
- B. Harga Pokok Penjualan Rp19.000,00
 Persediaan Barang Dagangan Rp19.000,00
- C. Persediaan Barang Dagangan Rp19.000,00
 Harga Pokok Penjualan Rp18.000,00
- D. Harga Pokok Penjualan Rp18.000,00
 Persediaan Barang Dagangan Rp18.000,00
- E. Persediaan Barang Dagangan Rp19.000,00
 Harga Pokok Penjualan Rp19.000,00

34. Sebuah perusahaan dagang, pada akhir periode akuntansi memiliki data berikut ini :

- Persediaan barang dagang (awal) Rp 30.000.000,00
- Pembelian Rp 72.000.000,00
- Retur pembelian Rp 3.000.000,00

▪ Potongan pembelian	Rp 500.000,00
▪ Persediaan barang dagang (akhir)	Rp 25.000.000,00
▪ Penjualan	Rp 97.000.000,00
▪ Retur penjualan	Rp 4.000.000,00
▪ Potongan penjualan	Rp 1.500.000,00
▪ Beban angkut pembelian	Rp 1.000.000,00
▪ Beban angkut penjualan	Rp 1.500.000,00
▪ Rugi luar usaha	Rp 3.800.000,00

Berdasarkan data di atas, besarnya laba bersih adalah ...

- A. Rp74.500.000,00
- B. Rp17.100.000,00
- C. Rp17.000.000,00
- D. Rp15.000.000,00
- E. Rp12.100.000,00

35. Data sebagian kertas kerja PD"RHOMA" per 31 Desember 2010 sebagai berikut:

No.	Nama Akun	Neraca Saldo Disesuaikan		Laba/Rugi	
		D	K	D	K
111	Kas	Rp 3.300.000,00	-	-	-
103	Piutang Dagang	Rp 5.800.000,00	-	-	-
104	Persediaan Barang Dagang	Rp 24.500.000,00	-	-	-
105	Perlengkapan	Rp 300.000,00	-	-	-
411	Penjualan	-	Rp145.000.000,00	-	Rp145.000.000,00
412	Retur penjualan	Rp 3.000.000,00	-	Rp 3.000.000,00	-
511	Pembelian	Rp 82.100.000,00	-	Rp 82.100.000,00	-
512	Potongan pembelian	-	Rp 620.000,00	-	Rp 620.000,00
611	Beban perlengkapan toko	Rp 700.000,00	-	Rp 700.000,00	-
211	Utang gaji	-	Rp 500.000,00	-	-
				Rp 85.800.000,00	Rp145.620.000,00

Dari kertas kerja sebagian di atas, dapat disusun jurnal sebagai berikut:

- (1) Ikhtisar Rugi/Laba (D) Rp145.620.000,00
 - Penjualan(K) Rp145.000.000,00
 - Potongan Pembelian(K) Rp620.000,00
- (2) Ikhtisar Rugi/Laba (D) Rp85.800.000,00
 - Pembelian(K) Rp82.100.000,00
 - Retur penjualan (K) Rp3.000.000,00
 - Beban perlengkapan toko (K) Rp700.000,00
- (3) Penjualan(D) Rp145.000.000,00
 - Potongan pembelian(D) Rp620.000,00
 - Ikhtisar Rugi/Laba(K) Rp145.620.000,00
- (4) Beban perlengkapan(D) Rp700.000,00
 - Ikhtisar Rugi/Laba Rp700.000,00
- (5) Ikhtisar Rugi/Laba(D) Rp59.820.000,00
 - Modal (K) Rp59.820.000,00
- (6) Modal (D) Rp59.820.000,00
 - Ikhtisar Rugi/Laba(K) Rp59.820.000,00

Jurnal Penutup yang benar berdasarkan data tersebut adalah... .

- A. (4), (5), dan (6)
- B. (3), (4), dan (6)
- C. (2), (3), dan (5)
- D. (2), (3), dan (4)
- E. (1), (2), dan (3)

36. Neraca saldo sebagian dari PT. GULA MADU pada akhir tahun 2010, sebagai berikut:

Kas	Rp5.200.000,00
Piutang dagang	Rp5.230.000,00
Utang dagang	Rp3.280.000,00

Modal Andi	Rp6.500.000,00
Penjualan	Rp7.850.000,00
Retur penjualan	Rp1.500.000,00
Pembelian	Rp4.500.000,00
Beban gaji	Rp1.200.000,00

Berdasarkan data di atas, pada Neraca Saldo Setelah Penutupan akan terlihat akun sebagai berikut:

- A. Kolom Debet: Kas, Piutang Dagang, Pembelian, dan Beban Gaji. Kolom Kredit: Utang Dagang, Modal Andi, Penjualan.
- B. Kolom Debet: Kas, Piutang Dagang, Beban Gaji, Retur Penjualan, Pembelian. Kolom Kredit: Utang Dagang, Modal Andi, Penjualan.
- C. Kolom Debet: Kas, Piutang Dagang, Penjualan, Retur Penjualan, Pembelian, Beban Gaji. Kolom Kredit: Utang Dagang, Modal Andi.
- D. Kolom debet: Kas, Piutang Dagang, Retur Penjualan, Beban Gaji. Kolom Kredit: Utang Dagang, Modal Andi, Penjualan, Pembelian.
- E. Kolom Debet berisi Kas dan Piutang Dagang. Sedangkan kolom Kredit berisi Utang Dagang dan Modal Andi.
37. Bapak Febrianto adalah seorang manager perusahaan, mempunyai tugas mengelola tenaga kerja agar efektif, efisien dan sesuai dengan keahliannya, selain itu juga memikirkan pengembangan tenaga kerja yang ada agar dapat meningkatkan kinerjanya. Kegiatan yang dilakukan oleh Pak Febrianto termasuk memanfaatkan unsur manajemen... .
- men
 - money
 - matherial
 - machine
 - methode
38. Perhatikan pernyataan berikut ini!
- Bertujuan semata-mata mencari laba
 - Berstatus Badan Hukum dan diatur oleh Undang-Undang
 - Dipimpin oleh seorang direksi, dan pegawainya berstatus sebagai pegawai perusahaan
 - Modalnya berupa saham, Pemerintah hanya sebagai pemegang saham
 - Setiap tahun wajib menyusun laporan tahunan yang memuat neraca dan laporan R/L.
- Pernyataan di atas merupakan ciri-ciri dari Badan Usaha Milik Negara yang berbentuk... .
- PERJAN
 - PERUM
 - PERSERO
 - PEGADAIAN
 - PERUSAHAAN DAERAH
39. Koperasi KOKOH pada musim penghujan yang lalu mengalami musibah banjir sehingga sebagian kekayaannya rusak dan hilang terbawa banjir. Untuk mengatasi masalah ini, tindakan yang harus dilakukan adalah... .
- mengadakan rapat anggota untuk membahas penyelesaian yang tepat
 - seluruh anggota koperasi meminta pertanggung jawaban pengurus koperasi
 - pengurus koperasi mengundang anggota untuk mengganti kerugian
 - pengurus koperasi mengundurkan diri sebagai bentuk tanggung jawab
 - setiap anggota mengumpulkan sumbangan sukarela untuk menutup kerugian
40. Sebagai pengusaha sayur-mayur yang baru saja mengalami kerugian yang sangat banyak, Pak Suryanto ingin membuka usaha baru yang lebih menjanjikan karena di daerahnya terdapat banyak sumber usaha yang bisa dikelola untuk menghasilkan keuntungan. Berikut ini langkah pertama dan utama yang harus ditempuh Pak Suryanto adalah... .
- melakukan studi banding ke para pengusaha yang sukses dalam bidang usaha tertentu
 - membandingkan harga-harga di antara para pemasok yang akan menjadi sumber bahan baku
 - mencari tambahan modal dengan cara meminjam dari bank atau lembaga keuangan lain
 - melakukan evaluasi terhadap kegagalan dan memperhitungkan untung/rugi usaha baru
 - meninggalkan usaha lama untuk kemudian mengurus izin usaha baru yang diinginkan